

НОМЕР КИМ**Вариант по математике № 260****Инструкция по выполнению работы**

Общее время экзамена — 235 минут.

Характеристика работы. Всего в работе 26 заданий, из которых 20 заданий базового уровня (часть 1), 4 задания повышенного уровня (часть 2) и 2 задания высокого уровня сложности (часть 2). Работа состоит из трёх модулей: «Алгебра», «Геометрия», «Реальная математика».

Модуль «Алгебра» содержит 11 заданий: в части 1 — 8 заданий; в части 2 — задания. Модуль «Геометрия» содержит 8 заданий: в части 1 — 5 заданий; в части 2 — 3 задания. Модуль «Реальная математика» содержит 7 заданий: все задания — в части 1.

Советы и указания по выполнению работы. Сначала выполняйте задания части 1. Начать советуем с того модуля, задания которого вызывают у Вас меньше затруднений, затем переходите к другим модулям. Для экономии времени пропускайте задание, которое не удаётся выполнить сразу, и переходите к следующему. Если у Вас останется время, Вы сможете вернуться к пропущенным заданиям.

Все необходимые вычисления, преобразования и т. д. выполняйте в черновике. Если задание содержит рисунок, то на нём непосредственно в тексте работы можно выполнять необходимые Вам построения. Рекомендуем внимательно читать условие и проводить проверку полученного ответа.

При выполнении заданий части 1 ответы укажите сначала на листах с заданиями экзаменационной работы, а затем перенесите в бланк № 1.

Решения к заданиям части 2 и ответы к ним запишите на бланке ответов № 2. Задания можно выполнять в любом порядке, начиная с любого модуля. Текст задания переписывать не надо, необходимо только указать его номер. Обращаем Ваше внимание на то, что записи в черновике не будут учитываться при оценивании работы.

При выполнении работы Вы можете воспользоваться справочными материалами.

Как оценивается работа. Баллы, полученные Вами за верно выполненные задания, суммируются. Для успешного прохождения итоговой аттестации необходимо набрать в сумме не менее 8 баллов, из них: не менее 3 баллов по модулю «Алгебра», не менее 2 баллов по модулю «Геометрия» и не менее 2 баллов по модулю «Реальная математика». За каждое правильно выполненное задание части 1 выставляется 1 балл. В каждом модуле части 2 задания расположены по нарастанию сложности и оцениваются в 2, 3 и 4 балла.

Желаем успеха!

Часть 1

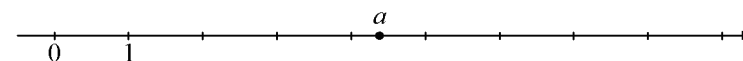
- Для заданий с выбором ответа (2, 3, 8, 14) из четырёх предложенных вариантов выберите один верный. В бланке ответов № 1 поставьте знак «×» в клеточку, номер которой соответствует номеру выбранного Вами ответа.
- Если варианты ответа к заданию не приводятся, то полученный результат сначала впишите в текст работы, а затем перенесите в бланк ответов № 1 справа от номера соответствующего задания, начиная с первой клеточки. Каждую цифру, знак минус и запятую пишите в отдельной клеточке в соответствии с приведёнными в бланке образцами. Единицы измерений указывать не нужно. Если ответом являются несколько чисел, запишите их в любом порядке в бланк ответов № 1, разделив точкой с запятой, например: 3; -10.
- Если в ответе приведена таблица, то перенесите записанную Вами последовательность цифр без пробелов и использования других символов в бланк ответов № 1.

Модуль «Алгебра»

1 Найдите значение выражения $(9,2 \cdot 10^{-2})(9 \cdot 10^{-4})$.

Ответ: _____.

2 На координатной прямой отмечено число a .



Из следующих утверждений выберите верное.

- 1) $a^2 < 25$ 2) $(a-4)^2 > 1$ 3) $a^2 < 16$ 4) $(a-5)^2 > 1$

3 Какое из данных чисел $\sqrt{0,36}$, $\sqrt{36}$, $\sqrt{3,6}$ является иррациональным?

- 1) ни одно из этих чисел
 2) $\sqrt{36}$
 3) $\sqrt{0,36}$
 4) $\sqrt{3,6}$

4) Решите уравнение $6(5-x) = -8x - 7$.

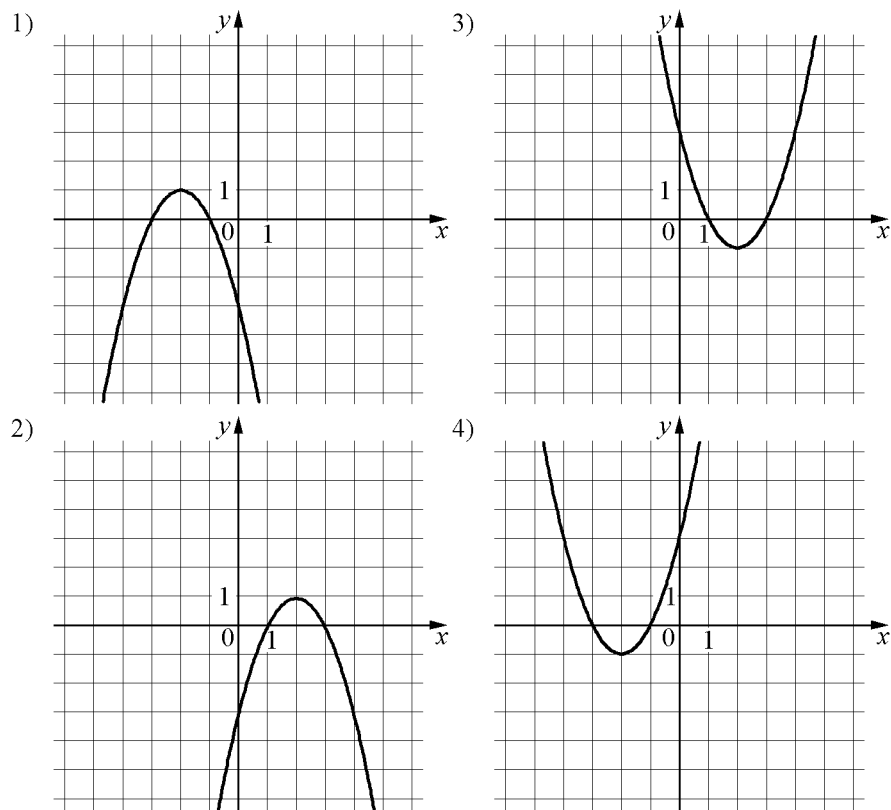
Ответ: _____.

5) Установите соответствие между функциями и их графиками.

ФУНКЦИИ

А) $y = -x^2 - 4x - 3$ Б) $y = -x^2 + 4x - 3$ В) $y = x^2 + 4x + 3$

ГРАФИКИ



Ответ:

А	Б	В

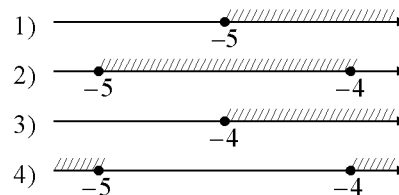
6) Выписаны первые несколько членов арифметической прогрессии: $-6; 1; 8; \dots$. Какое число стоит в этой арифметической прогрессии на 51-м месте?

Ответ: _____.

7) Найдите значение выражения $\left(\frac{y}{5x} - \frac{5x}{y}\right) : (y + 5x)$ при $x = \frac{1}{7}, y = \frac{1}{4}$.

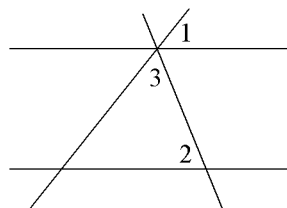
Ответ: _____.

8) На каком рисунке изображено множество решений неравенства $x^2 + 9x + 20 \geq 0$?



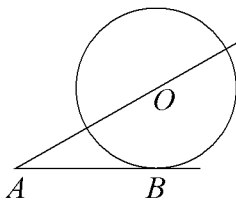
Модуль «Геометрия»

9 Прямые m и n параллельны. Найдите $\angle 3$, если $\angle 1 = 54^\circ$, $\angle 2 = 100^\circ$. Ответ дайте в градусах.



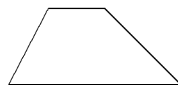
Ответ: _____.

10 К окружности с центром в точке O проведены касательная AB и секущая AO . Найдите радиус окружности, если $AB = 9$, $AO = 15$.



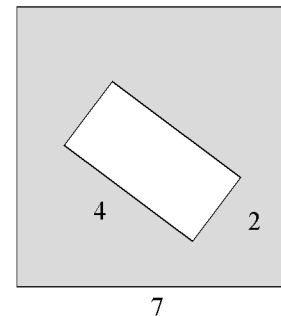
Ответ: _____.

11 Основания трапеции равны 6 и 30, одна из боковых сторон равна $7\sqrt{3}$, а угол между ней и одним из оснований равен 120° . Найдите площадь трапеции.



Ответ: _____.

12 Из квадрата вырезали прямоугольник (см. рисунок). Найдите площадь получившейся фигуры.



Ответ: _____.

13 Какие из следующих утверждений верны?

- 1) Через заданную точку плоскости можно провести единственную прямую.
- 2) Площадь треугольника меньше произведения двух его сторон.
- 3) Если два угла одного треугольника равны двум углам другого треугольника, то такие треугольники подобны.

Ответ: _____.

Модуль «Реальная математика»

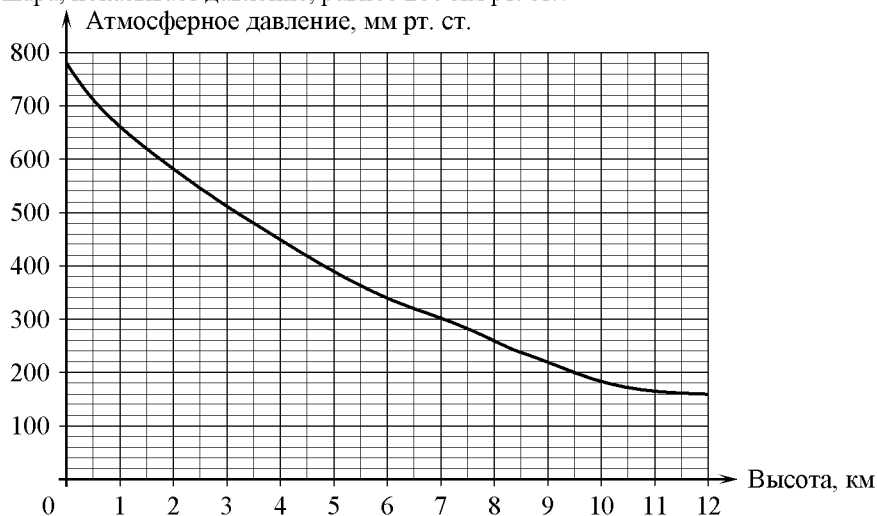
14 Студентка Цветкова выезжает из Наро-Фоминска в Москву на занятия в университет. Занятия начинаются в 9:00. В таблице приведено расписание утренних электропоездов от станции Нара до Киевского вокзала в Москве.

Отправление от ст. Нара	Прибытие на Киевский вокзал
6:17	7:13
6:29	7:50
6:35	7:59
7:05	8:23

Путь от вокзала до университета занимает 45 минут. Укажите время отправления от станции Нара самого позднего из электропоездов, которые подходят студентке.

- 1) 7:05 2) 6:17 3) 6:35 4) 6:29

15 На графике изображена зависимость атмосферного давления (в миллиметрах ртутного столба) от высоты над уровнем моря (в километрах). На какой высоте (в км) летит воздушный шар, если барометр, находящийся в корзине шара, показывает давление, равное 260 мм рт. ст.?



Ответ: _____.

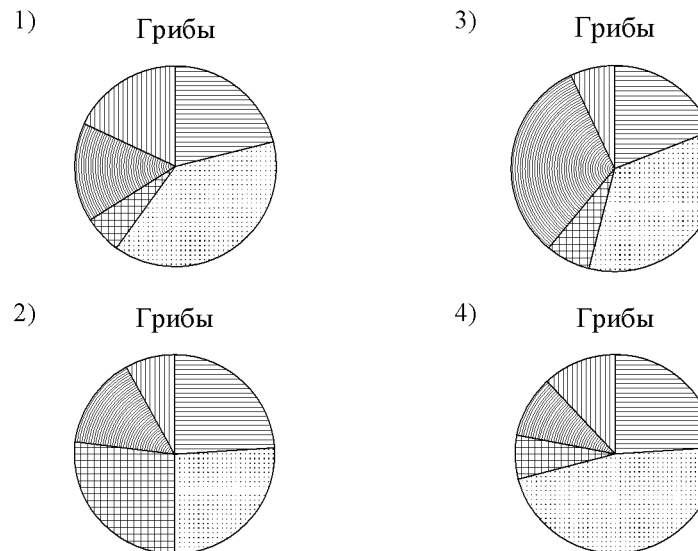
16 Стоимость проезда в электричке составляет 134 рубля. Школьникам предоставляется скидка 50%. Сколько рублей будет стоить проезд для 6 взрослых и 5 школьников?

Ответ: _____.

17 Сколько досок длиной 2 м, шириной 30 см и толщиной 15 мм выйдут из бруса длиной 140 дм, имеющего в сечении прямоугольник размером 30 см × 60 см?

Ответ: _____.

18 Какая из следующих круговых диаграмм показывает распределение грибов в лесу, если белых грибов всего 21%, мухоморов – 39%, лисичек – 6%, сыроежек – 16% и других грибов – 18%?



В ответе запишите номер выбранного ответа.

Ответ: _____.

- 19** Определите вероятность того, что при бросании игрального кубика (правильной кости) выпадет менее 4 очков.

Ответ: _____.

- 20** В фирме «Родник» стоимость (в рублях) колодца из железобетонных колец рассчитывается по формуле $C = 6000 + 4100 \cdot n$, где n — число колец, установленных при рытье колодца. Пользуясь этой формулой, рассчитайте стоимость колодца из 8 колец. Ответ укажите в рублях.

Ответ: _____.

Часть 2

При выполнении заданий 21–26 используйте отдельный лист. Сначала укажите номер задания, а затем запишите его решение и ответ. Пишите чётко и разборчиво.

Модуль «Алгебра»

- 21** Решите уравнение $x^6 = (9x - 20)^3$.
- 22** Поезд, двигаясь равномерно со скоростью 44 км/ч, проезжает мимо пешехода, идущего в том же направлении параллельно путям со скоростью 4 км/ч, за 36 секунд. Найдите длину поезда в метрах.
- 23** Постройте график функции $y = \frac{(0,5x^2 + 2x)|x|}{x + 4}$ и определите, при каких значениях m прямая $y = m$ не имеет с графиком ни одной общей точки.

Модуль «Геометрия»

- 24** Окружность, вписанная в треугольник ABC , касается его сторон в точках M , K и P . Найдите углы треугольника ABC , если углы треугольника MKP равны 52° , 56° и 72° .
- 25** Окружности с центрами в точках P и Q не имеют общих точек. Внутренняя общая касательная к этим окружностям делит отрезок, соединяющий их центры, в отношении $a:b$. Докажите, что диаметры этих окружностей относятся как $a:b$.
- 26** На стороне AB треугольника ABC взята точка D так, что окружность, проходящая через точки A , C и D , касается прямой BC . Найдите AD , если $AC = 38$, $BC = 34$ и $CD = 19$.